

30x20 TYT

# Y SOSYAL BİLİMLER Denemeleri

# K

# S

YUSUF DOLUAY  
EMRE TUNÇ  
ERKUT YAZGAN



KAZANIM ANALİZ  
TABLOSU



ÖSYM  
ÖSYM TARZI  
YENİ SORULAR



VIDEO ÇÖZÜMLÜ



HIZ VE RENK

1

*Hız ve Renk Branş Denemeleri sınavdan önce hatalarınızı görebilmeniz ve eksiklerinizi giderebilmeniz için sizlere büyük bir imkan sunuyor.*

2

*Denemeyi uyguladıktan sonra, denemelerin başında bulunan "kazanım tablosundan" yanlış yaptığınız ya da boş bıraktığınız soruların konularını tespit edebilirsiniz.*

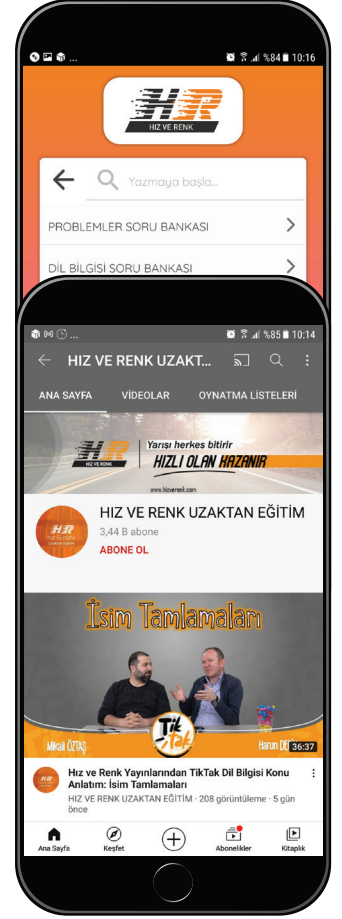
3

*Hız ve Renk Uzaktan Eğitim Kanalı'nda konu anlatımı ve daha fazlasını bulacaksınız.*



4

*Hız ve Renk uygulamasından ya da Hız ve Renk yayınları web sayfasından soru çözüm videolarını Hız ve Renk yazarlarından dinleyebilirsiniz.*



01

ÖĞRETMEN ÜYELİĞİ SEÇİMİ İLE SİSTEME ÜYELİK FORMUNU DOLDURUNUZ.

02

SİSTEME GİRİŞ YAPARAK DİJİTAL İÇERİKLERİNİZİ İSTEDİĞİNİZ YERE İNDİREBİLİRSİNİZ.

03

İNTERNETE BAĞLI OLSUN VEYA OLMASIN DİLEDİĞİNİZ PLATFORMLARDA İÇERİKLERİMİZİ KULLANABİLİRSİNİZ.

04

İSTEDİĞİNİZ SORULARLA KENDİ TESTİNİZİ OLUŞTURABİLİRSİNİZ.


[www.lisedestek.com](http://www.lisedestek.com)

✓ Ücretsiz Öğrenci – Öğretmen Üyeligi

✓ Akıllı Tahta Uygulamaları (Bilgisayar - Tablet - Telefon)

✓ Kolay Erişilebilir Dijital İçerik

✓ Müfredata Uygun Soru Havuzu





Copyright © Bu kitabın her hakkı saklıdır.

Hangi amaçla olursa olsun,  
bu kitabın tamamının ya da bir kısmının,  
kitabı yayımlayan yayınevinin önceden  
izni olmaksızın elektronik, mekanik, fotokopi  
ya da herhangi bir kayıt sistemi ile çoğaltılması,  
yayımlanması ve depolanması yasaktır.



[www.hizrenk.com](http://www.hizrenk.com)



[hizrenk@isler.com.tr](mailto:hizrenk@isler.com.tr)



[@hizveren](https://www.instagram.com/hizveren)

Değerli Üniversite Adayları,

Üniversite hazırlıkta eksikleri tespit etmek, bu eksikleri giderecek bir anlayışla konu tekrarı yapmak ve çalışmalarını buna göre planlamak başarılı bir sonuç almanın temel prensibidir. Sınav maratonunda özellikle "Deneme Sınavları" çalışmalarınızın sonuçları ve durumunuz hakkında size en net bilgileri veren kaynaklardır.

Hız ve Renk Yayınları Branş Denemeleri, çalışmanız ve tekrar etmeniz gereken konuları belirleyebilmeniz, eksiklerinizi giderebilmeniz için sizlere yardımcı olmak amacıyla her denemeye "Konu Analiz Tablosu" ilave edilerek hazırlanmıştır.

Yanlış yaptığınız ya da boş bıraktığınız sorulardan hareketle "Konu Analiz Tablosu"ndan eksiklerinizi belirleyerek çalışmanız gereken konuları tespit edebilirsiniz. Bu analiz ve tespitler netlerinizin düzenli bir şekilde artmasında önemli bir yere sahiptir. Her denemeden sonra "Konu Analiz Tablosu"nu doldurmayı bir alışkanlık hâline getirmeniz, başarınızın katlanmasını ve devamlılığını sağlayacaktır.

Başarılarınızda pay sahibi olabilmek HIZ VE RENK YAYINLARI olarak bizim en büyük mutluluğumuz olacaktır.

Başarılı ve sağlıklı bir ömür dileğiyle...

HIZ VE RENK YAYINLARI



# İÇİNDEKİLER

	Sayfa
<b>MAVİ HIZ DENEMELERİ</b>	
1. DENEME .....	5
2. DENEME .....	11
3. DENEME .....	17
4. DENEME .....	23
5. DENEME .....	29
6. DENEME .....	35
7. DENEME .....	41
<b>KIRMIZI HIZ DENEMELERİ</b>	
1. DENEME .....	48
2. DENEME .....	54
3. DENEME .....	60
4. DENEME .....	65
5. DENEME .....	71
6. DENEME .....	78
7. DENEME .....	84
8. DENEME .....	90
<b>TURUNCU HIZ DENEMELERİ</b>	
1. DENEME .....	96
2. DENEME .....	102
3. DENEME .....	109
4. DENEME .....	116
5. DENEME .....	123
6. DENEME .....	129
7. DENEME .....	135
8. DENEME .....	141
9. DENEME .....	147
10. DENEME .....	153
11. DENEME .....	159
12. DENEME .....	165
13. DENEME .....	170
14. DENEME .....	176
15. DENEME .....	182
<b>CEVAP ANAHTARI</b> .....	188



1. Bu testte sırasıyla, Tarih (1-5), Coğrafya (6-10), Felsefe (11-15) ve Din Kültürü ve Ahlak Bilgisi (16-20) alanlarına ait toplam 20 soru vardır.
2. Cevaplarınızı, cevap kâğıdının Sosyal Bilimler Testi için ayrılan kısmına işaretleyiniz.

1.



**İlk Çağ Mezopotamya uygarlıklarından olan Babiller Dönemi'nde inşa edilen görseldeki Babil Kulesi ile ilgili aşağıdakilerden hangisine ulaşamaz?**

- A) Bu yapı, o dönem şartlarına göre gelişmiş mimari teknikleri ile yapılmıştır.
- B) Babillerde mimari gelişmiştir.
- C) Babiller büyük eserler yapabilecek ekonomik güce sahiptir.
- D) Babiller yaşadıkları dönemde mimari açıdan en önde olmuşlardır.
- E) Babil Kulesi bulunduğu şehirdeki en görkemli yapıdır.

H  
I  
Z  
R  
E  
N  
K

3. Osmanlı ekonomisi için tarım ekonomisi denilebilir. Üretim ve hazine gelirlerinin büyük kısmı tarımsal üretimden elde edilmekte idi.

**Aşağıdaki uygulamalardan hangisi Osmanlı'nın bir tarım ekonomisi olduğuna dayanak oluşturmaz?**

- A) Tımar sisteminin uygulanması
- B) Alınan vergilerin büyük kısmının tarımla ilgili olması
- C) Şehirlerde imar faaliyetlerine önem verilmesi
- D) Toprağını boş bırakan köylülerin cezalandırılması
- E) Hasat zamanında hazine gelirlerinin artması

2. İlk ve Orta Çağ'da ticaretin merkezi denilebilecek İpek Yolu, Asya'dan Avrupa'ya sadece tüketim malzemesinin taşındığı bir yol değildir. Doğu ile Batı arasında etkileşimi de taşımıştır bu yol. Günümüzde iletişim araçlarının fonksiyonunu o dönemde İpek Yolu yerine getirmiştir.

**Buna göre İpek Yolu'nun uygarlığın gelişmesinde aşağıdaki alanlardan hangisinde daha az katkısı olduğu söylenebilir?**

- A) Yazının kullanımı
- B) Bilim ve teknik
- C) Düşünce
- D) Din
- E) Ekonomi

4. Osmanlı Devleti XVIII. yüzyılda kritik toprak kayıpları yaşamıştır. Bu dönemde ilk defa halkı Müslüman ve Türk olan bir toprak parçasını kaybetmiştir.

**Paragrafta sözü edilen toprak parçası aşağıdakilerden hangisidir?**

- A) Kırım
- B) Mora Yarımadası
- C) Lehistan
- D) Macaristan
- E) Dalmaçya

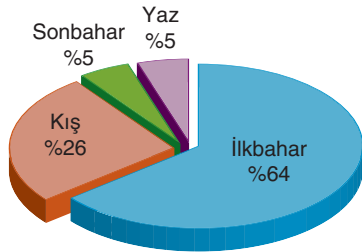


5. Millî Mücadele Dönemi'nde I.TBMM, yasama, yürütme ve yargı yetkilerini meclise vererek "Kuvvetler Birliği" ilkesini benimsemiştir.

**I. TBMM'nin "Kuvvetler Birliği" ilkesini benimsemesi aşağıdakilerden hangisi üzerinde fayda sağlamamıştır?**

- A) TBMM'nin otoritesinin artması  
B) Kararların hızlı bir şekilde alınıp uygulanması  
C) TBMM'ye karşı çıkan isyanların bastırılması  
D) Halk egemenliğinin pekişmesi  
E) Düzenli ordunun kurulması

6. Aşağıdaki grafikte ülkemizde heyelan olayının mevsimlere göre dağılışı verilmiştir.



**Buna göre heyelanların ilkbahar mevsiminde artmasının nedeni aşağıdakilerden hangisidir?**

- A) Yağışların artması  
B) Tektonik hareketler  
C) Kar erimeleri  
D) Bitki örtüsünün tahribi  
E) Meraların aşırı otlatılması

7. İklim olayları doğal ve beşeri faaliyetler üzerinde etkilidir.

Doğal	Beşeri	Faaliyet	
	✓	İnsanların karakter yapısı	I
	✓	Meskenlerin yapı malzemesi	II
✓		Bitki örtüsünün dağılışı	III
	✓	Akarsuların akış miktarı	IV
✓		Toprak oluşumu	V

**Yukarıda verilenlerden hangisinde iklimin etkilediği faaliyetlerde yanlışlık yapılmıştır?**

- A) I      B) II      C) III      D) IV      E) V

8. Tarihsel süreçte dünya nüfusunun sürekli olarak artış gösterdiği kabul edilmektedir. Ancak bazı dönemlerde bu artışta hızlanma bazı dönemlerde ise yavaşlamalar görülmüştür. Dünya nüfusundaki ani artışların yaşandığı dönemlere sıçrama (patlama) dönemi denir.

**Buna göre,**

- I. Neolitik dönemde yerleşik hayata geçilmesi  
II. Kalkolitik dönemde bakırın işlenmesi  
III. Paleolitik dönemde alet yapımı  
IV. Maden Çağında silah yapımının gelişmesi  
V. Sanayi devrimi ile üretimin artması

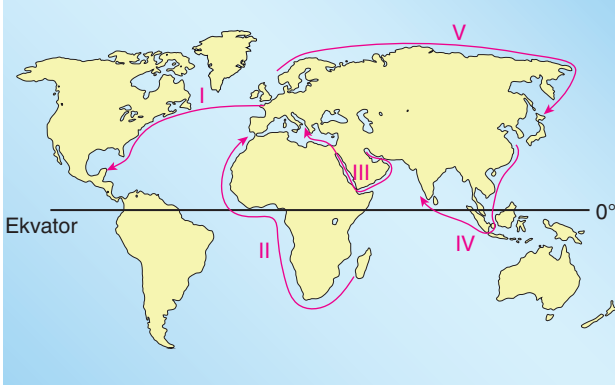
**olaylarından hangileri Dünya nüfusunda sıçramaya neden olmuştur?**

- A) I,II ve III      B) II, III ve IV      C) III, IV ve V  
D) I,III ve V      E) II, IV ve V





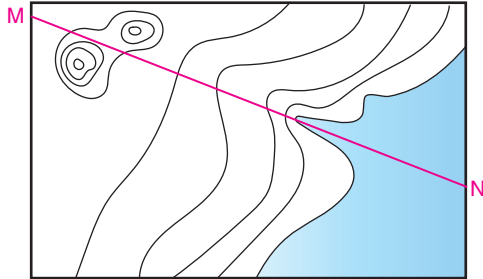
9. Aşağıdaki haritada Dünya'da deniz yolu taşımacılığının yoğunlaştığı alanlar gösterilmiştir.



Dünya'da deniz yolu taşımacılığında en fazla kullanılan güzergah haritada numaralandırılan alanlardan hangisidir?

- A) I      B) II      C) III      D) IV      E) V

10. Aşağıda bir yöreye ait izohips haritası verilmiştir.



M - N doğrultusunda sırasıyla hangi yeryüzü şekilleri görülür?

- A) Zirve - Sırt - Haliç  
B) Boyun - Vadi - Delta  
C) Çukur - Vadi - Haliç  
D) Boyun - Sırt - Delta  
E) Boyun - Vadi - Haliç

11. Bilginin kesin ve değişmez nitelikte olup hiçbir eleştiriye tabi tutmadan, aklın mutlak ve değişmez olanı bilebileceğini, düşünme ve akıl yoluyla değişmez, kesin gerçeklere ulaşabileceğini kabul eden öğretilerdir.

**Bu cümlede dile getirilen düşünce bilgi felsefesindeki görüşlerden hangisine uygundur?**

- A) Empirizm      B) Dogmatizm  
C) Pragmatizm      D) Rasyonalizm  
E) Septisizm

H  
I  
Z  
R  
E  
N  
K  
K

12. İskender'in Asya seferleri kültür bakımından önemli sonuçlar doğurmuştur. Kültür tarihi bu seferler sayesinde ilerleme göstermiş ve Doğu ve Batı kültürleri arasında karşılıklı diyalog kurulmuştur. Bu iki kültürün karşılaşmasında "Hellenizm" adı altında bir akım oluşmuştur. Hellenizmin karakteristik özelliği, bir yandan Yunan kültür ve düşüncesinin doğuya yayılması, öte yandan doğunun dini düşüncelerinin batıya girmesidir. Hellenizm, bu karşıt yönlerden gelen akımların birbiriyle karışıp birleşmesinden oluşmuştur.

**Bu parçadan aşağıdaki yargıların hangisine ulaşılabilir?**

- A) Doğu ve batı arasında ciddi bir kültür farkı bulunmamaktadır.  
B) Batı düşüncesi her zaman doğu felsefesine karşı direnç göstermiştir.  
C) Doğu ve batı arasında felsefi etkileşim çok kısa bir dönemde olmuştur.  
D) Toplumsal etkileşimler yeni düşüncelerin ortaya çıkmasına yol açabilir.  
E) Hellenizm bir batı kültürünün dayatması sonucunda ortaya çıkmıştır.



13. Machiavelli'ye göre devlet yönetiminde daima zora başvurulmalıdır. Ayrıca bir hükümdar yapacağı reformlar konusunda çok ihtiyatlı davranmalıdır. Çünkü eski düzenden çıkarı olanların hepsi, yeni düzeni kuranın düşmanıdır. Yeni düzenden faydalanacakların hepsi de onun istekli savunucularıdır.

**Bu parçada Machiavelli devletin yönetimini güçleştiren hangi faktöre işaret etmiştir?**

- A) Yönetimdeki insanların menfaatlerine
- B) Yöneticilerin yeteneksiz oluşuna
- C) Yürürlükte olan yasaların yetersizliğine
- D) Halkın değişimlere karşı oluşuna
- E) Devletler arasındaki siyasi sürtüşmelere

14. Siteler döneminde üretilenlerin ihtiyacın üstünde olması, özel mülkiyetin ve köleliğin yaygınlaşması böylelikle kent seçkinlerinin kendilerine daha fazla zaman ayırmaları ile sanat ve felsefe gibi alanlara ilgi artmış ve yaygınlaşmıştır. Bu nedenle felsefe ve sanatta hızlı bir ilerleme kaydedilmiştir.

**Bu parçaya göre sanat ve felsefede ilerlemenin temel nedeni aşağıdakilerden hangisidir?**

- A) Siteler dönemde ortaya çıkan yeni Coğrafi Keşifler
- B) Sanat ve felsefenin temellerinin o dönemde atılması
- C) O dönemdeki insanların felsefe ve sanata öncelik vermeleri
- D) Siteler döneminde bilim ve sanata değer verilmesi
- E) Üretimin artmasıyla ortaya çıkan boş zaman

15. Voltaire göre, "Tanrı düşüncesinden başka her şey saçmadır." Ona göre Tanrı'nın varlığı kabul edilmeli fakat Tanrısal kaynaklı bilgiler veya bunlar doğrultusunda yapılan davranışlar reddedilmelidir.

**Bu parçada aşağıdakilerden hangisinin varlığına karşı çıkmaktadır?**

- A) Geleneklerin varlığına
- B) Batıl inançların varlığına
- C) Örf ve âdetlerin varlığına
- D) Dinlerin varlığına
- E) Bilimlerin varlığına

16 - 20. soruları Din Kültürü ve Ahlak Bilgisi dersini yasal olarak almak zorunda olanlar ve İmam Hatip Okulları öğrencileri / mezunları cevaplayacaktır.

16. Biz Kur'an'ı insanlara dura dura okusunlar diye ayet ayet ayırdık ve onu peyderpey indirdik. (İsra suresi, 106. ayet)

**Bu ayetten aşağıdakilerden hangisi çıkarılabilir?**

- A) Kur'an'ın tamamlanmamış bir kitap olduğu
- B) Kur'an'ın bütün olarak tek seferde indirildiği
- C) Kur'an'ın kısa zaman içinde tamamlandığı
- D) Kur'an'ın Kadir Gecesi birdenbire indirildiği
- E) Kur'an'ın olaylara göre parça parça indirildiği



17. Hamt, âlemlerin Rabbi, rahman, rahim, hesap ve ceza gününün (ahiret gününün) maliki Allah'a mahsustur. Allah'ım, yalnız sana ibadet ederiz ve yalnız senden yardım dileriz. Bizi doğru yola, kendilerine nimet verdiklerinin yoluna ilet; gazaba uğrayanlarınkine ve sapıklarınkine değil. (Fatıha suresi)

**Bu ayete göre aşağıdakilerden hangisi doğru kabul edilebilir?**

- A) Gazaba uğrayanlar ve sapkınlar asla doğru yola girmezler.
- B) İnsanlar akılla asla doğru yolu bulamazlar.
- C) Düşünme ve mantık ile doğru yol bulunamaz.
- D) Hidayet ve yardım sadece Allah'tan dilenmelidir.
- E) Hesap günü herkes yaptıklarından hesaba çekilecektir.

18. I. "Haksızlıklar karşısında susan, dilsiz şeytandır."  
 II. "Her duyduğunu başkalarına söylemesi, kişiye günah olarak yeter."  
 III. "Bir iyiliğe öncülük eden, onu yapan kadar sevap alır."  
 IV. "Kendisi için istediğini, din kardeşi için de istemeyen kişi olgun mümin olamaz."

**Bu hadislerden hangisinin karşılığı olan kavram aşağıda belirtilmemiştir?**

- A) Adalet
- B) Empati kurma
- C) Hayırseverlik
- D) Haram
- E) Gıybet

19. Nerede olursan ol Allah'a karşı gelmekten sakın, yaptığın kötülüğün arkasından bir iyilik yap ki bu onu yok etsin. İnsanlara karşı güzel ahlakın gereğine göre davran.

**Buna göre aşağıdakilerden hangisine ulaşılabilir?**

- A) Her insan hata yapabilir ama tövbe etmesini bilmelidir.
- B) Hatalar ancak onun yerine geçen bir iyilikle düzeltilebilir.
- C) Her iyilik bir kötülüğün ortaya çıkmasına neden olur.
- D) Her insan, kendisine nasıl davranılmasını istiyorsa başkasına da öyle davranmalıdır.
- E) Her insan kusurludur ama kusurda ısrar etmek yanlıştır.

H  
I  
Z  
R  
E  
N  
K

20. I Kendilerini kadınlara benzetmeye çalışan erkekler ve erkeklere benzetmeye çalışan kadınlar bizden değildir.  
 II. Cömert kişinin yemeği şifa, cimri kişinin yemeği ise hastalıktır.  
 III. İnsanlar arasında söz taşıma, dedikodu ve iftira etmekten sakınınız.  
 IV. Sizin en hayırlınız, ahlakı en güzel olanınızdır.  
 V. Allah, ilim öğrenmek amacıyla yola çıkan kimseye cennetin yolunu kolaylaştırır.

**Yukarıda verilen hadislerden hangisi eğitim ile ilgi kuru-labilecek niteliktedir?**

- A) I
- B) II
- C) III
- D) IV
- E) V



1. Bu testte sırasıyla, Tarih (1-5), Coğrafya (6-10), Felsefe (11-15) ve Din Kültürü ve Ahlak Bilgisi (16-20) alanlarına ait toplam 20 soru vardır.
2. Cevaplarınızı, cevap kâğıdının Sosyal Bilimler Testi için ayrılan kısmına işaretleyiniz.

1. Tarihin konusu üzerine araştırma ödevi hazırlayan bir öğrenci içeriğine örnek olarak aşağıdakilerden hangisini yazamaz?

- A) Yanardağ patlamalarının ekolojiye olan etkileri
- B) Devletlerin siyasi, askerî ve ekonomik faaliyetleri
- C) İnsanlığın üretim teknolojilerindeki ilerlemesi
- D) Milletlerin uygarlığın gelişimine olan katkıları
- E) Dinlerin ortaya çıkışı ve yayılışı

3. 1402 Ankara Savaşı'nın tarafları olan Osmanlı ve Timur Devleti'nin etnik ve dini bakımdan aynı olduğu söylenebilir. Buna rağmen yaşanan bu savaş sonucunda Osmanlı yıkılma tehlikesi geçirmiştir.

**Paragrafta verilenlere bakılarak devletlerin mücadele-sindeki en önemli unsurun aşağıdakilerden hangisi ola-bileceği söylenebilir?**

- A) Sınır anlaşmazlığı
- B) Üstünlük mücadelesi
- C) Etnik çatışma
- D) Ticaret yolları egemenliği
- E) Halifeliği ele geçirme düşüncesi

2. Kök Türkler kendinden önceki Türk devletlerinden bazı özellikleri ile ayırt edilebilirler.

**Aşağıdakilerden hangisi Kök Türkleri kendinden önceki Türk devletlerinden ayırt eden özelliklerden biridir?**

- A) Devlet isminde ilk kez Türk adını kullanmaları
- B) Yönetimde Kurultay'ın önemli bir yere sahip olması
- C) Töre kurallarının kesin bir şekilde uygulanması
- D) Ordu-millet kavramını uygulamaları
- E) Çin'i baskı altında tutmaya çalışmaları

4. 1841 Londra Boğazlar Sözleşmesi ile Boğazlardan hangi gemilerin geçebileceği kararı uluslararası platformda belirlenmiştir. Böylece Boğazlar uluslararası statü kazanmıştır.

**Bu durumun, Osmanlı Devleti'nde aşağıdaki alanlardan hangisine daha fazla zarar verdiği söylenebilir?**

- A) Ekonomik özgürlük
- B) Milli çıkarlar
- C) Üniter yapı
- D) Egemenlik hakları
- E) Adalet





5. Erzurum Kongresi'nde "Millî kuvvetleri etkili, millî iradeyi hâkim kılmak temel ilkedir." Maddesi kabul edilmiştir.

**Bu maddeye bakılarak Millî Mücadele'nin aşağıdakilerden hangisini hedeflediği söylenemez?**

- A) Halkın egemenliğine dayalı bir yönetim sistemi  
B) Türk halkının tam bağımsızlığının sağlanması  
C) Halkın kurtuluşunda büyük devletlerin katkısının olması  
D) Yabancı işgallerinin sona erdirilmesi  
E) Halkın temsil edilebileceği bir meclisin açılması

6. Yerin iç yapısı hakkındaki bilgilere;

- I. Fosiller  
II. Volkanizma  
III. Depremler  
IV. Bitki örtüsü

**unsurlarından hangilerinin incelenmesiyle ulaşılabilir?**

- A) Yalnız I                      B) I ve II                      C) II ve III  
D) II ve IV                      E) III ve IV

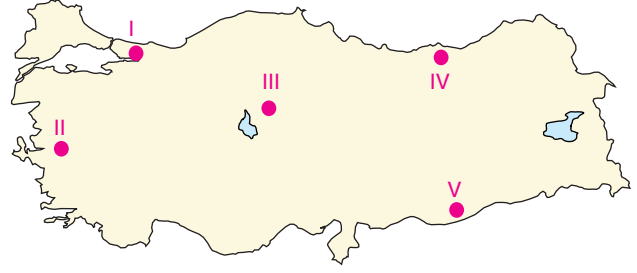
7. Aşağıda P, S, R noktalarının bir güne ait gündüz ve gece süreleri verilmiştir.

	Gündüz	Gece
P	14	10
S	16	8
R	13	11

**Buna göre verilen noktaların ekvatora yakın olandan uzak olana göre doğru sıralanışı aşağıdakilerden hangisidir?**

- A) P-S-R                      B) S-P-R                      C) R-S-P  
D) P-R-S                      E) R-P-S

- 8.



**Yukarıdaki Türkiye haritasında verilen numaralanmış alanların hangilerinde yeryüzünü şekillendiren dış kuvvet rüzgârlardır?**

- A) I ve II                      B) I ve III                      C) II ve IV  
D) III ve V                      E) IV ve V

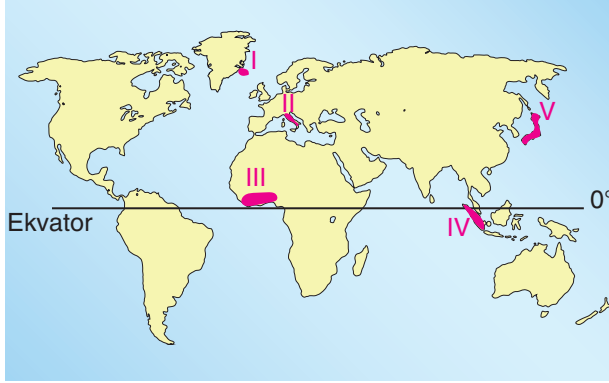
9. Cinsiyet yapısı genel olarak kadın ve erkek nüfusun dağılımıdır.

**Bir bölgede nüfusun cinsiyet yapısını etkileyen en önemli faktör aşağıdakilerden hangisidir?**

- A) Doğumlar  
B) Göçler  
C) Eğitim durumu  
D) Ölümler  
E) Ekonomik faaliyetler



10. Aşağıda bazı alanlar taranarak numaralandırılmıştır.



Buna göre işaretli alanlardan hangisi volkanik aktivitele-  
rin sık yaşandığı bölgelerden biri değildir?

- A) I      B) II      C) III      D) IV      E) V

11. Pozitif felsefeyi geliştirip sistemleştiren bilimin tek amacının olgular arasındaki değişmez ilişkileri ya da doğal yasaları bulmak olduğunu ileri süren, bu amacın yalnızca gözlem ve deney yoluyla gerçekleştirilebileceğini söyleyen, gözlem ve deney yoluyla kazanılan bilginin pozitif bilgi olduğunu savunan filozoftur.

Bu cümlede ifade edilen görüşleri savunan filozof aşağı-  
dakilerden hangisidir?

- A) Platon      B) Hegel      C) A. Comte  
D) Descartes      E) Herakleitos

12. Bir bilim olarak psikoloji ve sosyolojinin ortak özelliği, davranışları incelerken psikolojinin olması gereken davranış kalıplarını sosyolojinin de olması gereken toplum kurallarını vermemesidir. Oysa felsefede olması gerekene ilişkin birçok iddia ve tez bulmak mümkündür.

Bu parçaya göre aşağıdakilerden hangisi bilimi felsefe-  
den ayıran bir özelliktir?

- A) Eleştiriye açık olmak  
B) Doğruya ulaşmak için çabalamak  
C) Sistemli olmak  
D) İnsanı ve doğayı anlamaya çalışmak  
E) Olanı olduğu gibi incelemek

13. Şüphencilik ilkesine saygılı hiçbir bilim insanı, bulgusunun nihai ve kesin olduğunu savunmaz. Bilimsel yayınların çoğu yeni yapılacak deneylerle sınırlanır. Bilim ancak sınamaya açık olduğu takdirde kendini yenileyebilir.

Bu parçada bilimin aşağıda verilen özelliklerinden han-  
gisi vurgulanmaktadır?

- A) Eleştiriye açık olması  
B) Birikerek ilerlemesi  
C) Yöntemli olması  
D) Evrensel olması  
E) Nesnel olması



14. Güzel bir parfümün bilgisini edinebilmek için onu koklamalı, güzel bir yiyeceğin bilgisini edinebilmek için de onu tatmalıyız.

**Bu parçadan bilgi konusuyla ilgili aşağıdakilerden hangisine ulaşılabilir?**

- A) Bilgi yaşantılar sonucu oluşur.
- B) Bilgi her zaman olanaklı değildir.
- C) Bilgiler genelgeçerlidir.
- D) Bilgiler kişiden kişiye değişir.
- E) Bilgi suje ve obje arasındaki bağ ile oluşur.

15. Gerçekten de felsefeye farklılıklara saygı göstermek, başkalarıyla birlikte yaşamının asgari koşullarını temin etmek için ihtiyaç duyarız. Bu açıdan özellikle ihtiyaç duyduğumuz felsefe, insanlar arasındaki çatışmaların binlerce yıldan beri sürüp gittiğini ve insanın olduğu her yerde bu çatışmalara rastlanabileceğini gösterir. Felsefe dahası, insanlar arasındaki çatışmaların hakkaniyet, adalet, başkalarının düşüncelerine ve haklarına saygı benzeri evrensel etik ilkelerin uygulanması suretiyle çözüme kavuşturulabileceğini gösterir.

**Bu parçadan aşağıdaki yargıların hangisine ulaşamaz?**

- A) Felsefe düşünsel farklılıklara saygı gösterir.
- B) Felsefe bir arada yaşama koşullarını bulmayı sağlar.
- C) Felsefe insanlar arasındaki tüm problemleri çözer.
- D) Felsefe insanlara hoşgörü ve adalet ile davranır.
- E) Felsefe insana ve düşüncelere evrensel olarak yaklaşır.

**16 - 20. soruları Din Kültürü ve Ahlak Bilgisi dersini yasal olarak almak zorunda olanlar ve İmam Hatip Okulları öğrencileri / mezunları cevaplayacaktır.**

16. Bu, o kitaptır ki kendisinden hiç şüphe yoktur ve daha önceki kitaplarda, Allah'ın inzal edeceğini vaat buyurduğu kâmil kitaptır. Ahirette zarar verecek şeylerden korunanlar (takva sahipleri) için delildir, yol göstericidir. (Bakara suresi, 2. ayet)

**Buna göre Kur'an-ı Kerim hakkında aşağıdaki genellemelerden hangisi yapılabilir?**

- A) Tüm ahlaki sapmalardan koruyan bir kitaptır.
- B) Ahirette insanlığa ışık olan bir kitaptır.
- C) Kemale ermiş ve yol gösterici bir kitaptır.
- D) Cehennem ateşinin şiddetini azaltan bir kitaptır.
- E) İnsanlara doğru düşünme yollarını gösteren bir kitaptır.

17. Kalplerinde gizli inkâr hastalığı vardır. Allah hastalıklarını daha da artırmıştır. Yalan söyledikleri için onları acıklı bir azap beklemektedir. (Bakara suresi, 10. ayet)

**Bu ayete göre "gizli inkâr hastalığı" hakkında aşağıdakilerden hangisi söylenebilir?**

- A) Kendiliğinden ortaya çıkmış bir özelliktir.
- B) Yalanı ve ikiyüzlülüğü artıran bir tavidir.
- C) İyileşmesi mümkün olmayan bir hastalıktır.
- D) Azabı hak eden kalplerde gizlenmiş bir hastalıktır.
- E) Doğru sözlü olmaya yöneltmeyen bir kusurdur.



18. Hz. Muhammed için "Hâteme'n-nebiyyîn" nebilerin (yani peygamberlerin) hatemi denmektedir. Hatem, hatm kökünden gelir. "Hatm"ın iki anlamı vardır: Bir şeye tesir etmek ve bu tesirden oluşan iz. Bir şeyi mühürlemeye hatm dendiği gibi bir şeyin sonuna damga vurmaya da hatm denir. Hitam, bir şeyin sona ermesi demektir. Hatem yüzük, mühür anlamındadır.

**Buna göre, Hz. Muhammed ile ilgili olarak aşağıdakilerden hangisi söylenebilir?**

- A) Hz. Muhammed tüm insanlığa gönderilmiş bir peygamberdir.
- B) Hz. Muhammed bir merhamet ve ahlak peygamberidir.
- C) Hz. Muhammed'in gelişiyle peygamberlik yolu kapanmıştır.
- D) Hz. Muhammed cinlere ve insanlara gönderilmiş bir peygamberdir.
- E) Hz. Muhammed güzel ahlak üzere gönderilmiş bir peygamberdir.

19. Kendilerine senden önce bir uyarıcı gelmemiş olan bir kavmi korkutman için buyrulduğu üzere "İçlerinde bir uyarıcı gelip geçmemiş olan hiçbir kavim yoktur." (Fâtır suresi, 24. ayet)

**Bu ayet ile paralellik gösteren ayet aşağıdakilerden hangisidir?**

- A) Ant olsun ki biz vaktiyle Musa'ya kitap vermiştik. Şimdi de sen ona (öyle bir kitaba) kavuşmaktan şüphe içinde olma. Biz onu İsrailoğullarına doğru yolu gösteren bir rehber kılmıştık. (Secde suresi, 23. ayet)
- B) Ey kitap ehli, peygamberlerin bulunmadığı bir zamanda size (ayetlerimizi) açıklayan peygamberimiz gelmiştir. (Mâide suresi, 19. ayet)
- C) Şüphesiz Allah Âdem'i seçerek üstün kıldı. (Âli İmran suresi, 33. ayet)
- D) "Bu bir gerçek mi?" diye senden haber soracaklar. De ki: "Evet, Rabb'ime ant olsun ki şüphesiz gerçektir ve sizler aciz bırakacak değilsiniz." (Yunus suresi, 53. ayet)
- E) Hatırla ki Meryem oğlu İsa: "Ey İsrailoğulları! Ben size Allah'ın elçisiyim, benden önce gelen Tevrat'ı doğrulayıcı ve benden sonra gelecek Ahmet adında bir peygamberi de müjdeleyici olarak geldim." demişti. (Saff suresi, 6. ayet)

20. Kim kötü ve çirkin bir iş görürse onu eliyle düzeltsin, eğer buna gücü yetmiyorsa diliyle düzeltsin, buna da gücü yetmezse kalben karşı koysun. Bu da imanın en zayıf derecesidir. (Müslim, İmân, 78; Ebû Dâvûd, Salât, 248)

**Bu hadiste "kötü ve çirkin bir iş" sözü çıkarılıp yerine aşağıdaki kavramlardan hangisi getirildiğinde hadisin anlamı değişmez?**

- A) Sabırsız
- B) Adaletsiz
- C) Düzensiz
- D) Nedensiz
- E) Hesapsız





1. Bu testte sırasıyla, Tarih (1-5), Coğrafya (6-10), Felsefe (11-15) ve Din Kültürü ve Ahlak Bilgisi (16-20) alanlarına ait toplam 20 soru vardır.
2. Cevaplarınızı, cevap kâğıdının Sosyal Bilimler Testi için ayrılan kısmına işaretleyiniz.

1. Tarihî bilgiye ulaşmamızı sağlayan malzemelere kaynak denir.

**O halde aşağıdakilerden hangisi tarihçiler için kaynak olarak değerlendirilemez?**

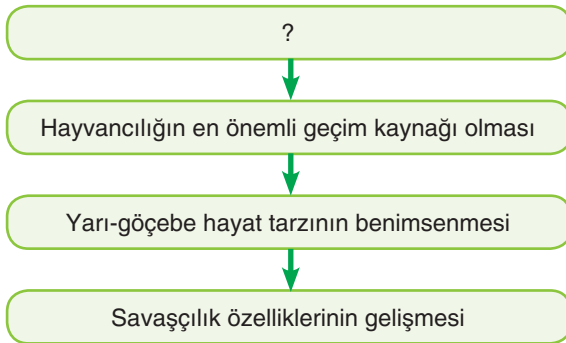
- A) Ünlü bir hükümdara ait kılıç
- B) İki devlet arasındaki antlaşma metinleri
- C) İlk Çağ'dan kalma tarım aleti
- D) Erken Cumhuriyet Dönemi gazeteleri
- E) Denizli Pamukkale travertenleri

3. Haçlı Seferleri genel anlamda bu seferleri düzenleyenleri tatmin etmedi. Bunun en önemli kanıtı IV. Haçlı Seferi'nde bazı Haçlı birliklerinin Bizans'ı yağmalamasıdır.

**Bu bilgilere göre Haçlı Seferlerinin düzenlenmesinin en önemli nedeni olarak aşağıdakilerden hangisi gösterilebilir?**

- A) Kutsal yerleri ele geçirmek
- B) Papa'nın gücünü artırmak istemesi
- C) Orta Doğu'nun zenginliklerini ele geçirmek
- D) Feodal beylerin topraklarını genişletmek istemesi
- E) Hristiyanlığı yayma düşüncesi

2.



**Türklerin Orta Asya'da yaşam tarzlarını anlatan diagrafda soru işareti olan kısma aşağıdakilerden hangisinin yazılması doğru olur?**

- A) İpek Yolu'nun Orta Asya'dan geçmesi
- B) Hayvancılığın getirisinin fazla olması
- C) Türklerin Çinliler kadar tarım tecrübesi olmaması
- D) Orta Asya'nın karasal iklimde olması
- E) Türklerin ticarete önem vermemesi

4. 1878 Berlin Antlaşması ve sonrasında Osmanlı Devleti Sırbistan, Romanya, Karadağ, Kıbrıs, Tunus ve Mısır topraklarını kaybetmiştir.

**Bu toprak kayıpları ile ilgili aşağıdaki değerlendirmelerden hangisinin yapılması yanlış olur?**

- A) Kuzey Afrika'da Osmanlı egemenlik sahası daralmıştır.
- B) Kutsal topraklar Osmanlı egemenliğinden çıkmıştır.
- C) Osmanlının Akdeniz hâkimiyeti zarar görmüştür.
- D) Osmanlının sınırları hızla daralmıştır.
- E) Avrupa'da Osmanlının siyasi etki alanı azalmıştır.



Misak-ı Millî sınırlarını gösteren haritaya bakılarak aşağıdakilerden hangisini söylemek yanlış olur?

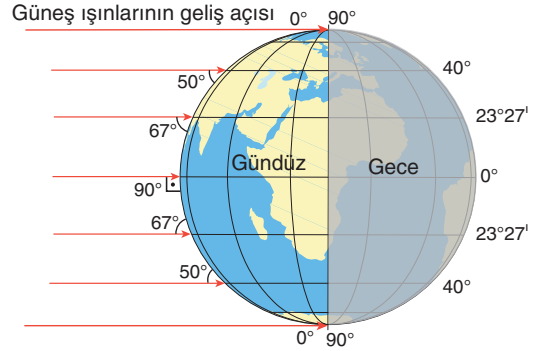
- Sınırlar, Türklerin yoğun olarak yaşadığı bölgeler esas alınarak belirlenmiştir.
- Haritadaki tüm Türk coğrafyası egemenlik altına alınmıştır.
- Sınırlar yapay sınırlar değil; tarih boyunca yaşanmışlıkların sonucudur.
- Musul, Kerkük gibi bölgeler de vatan toprağı olarak değerlendirilmiştir.
- Bulgaristan ve Yunanistan'da Türklerin yoğun olarak yaşadığı yerler de vatan toprağı olarak değerlendirilmiştir.

6. Haritada mekansal veriler CBS (Coğrafi Bilgi Sistemi) ile vektörel modeller kullanılarak işlenir.
- Ulubat Gölü
  - Nemrut Dağı
  - Seyhan Nehri

Yukarıda verilenlerin haritaya aktarımında kullanılan yöntemler aşağıdakilerden hangisinde doğru olarak verilmiştir?

	I	II	III
A)	Nokta	Çizgi	Alan
B)	Alan	Nokta	Çizgi
C)	Çizgi	Nokta	Alan
D)	Alan	Çizgi	Nokta
E)	Nokta	Alan	Çizgi

7. Bir noktanın ekvatora olan uzaklığı artarsa sıcaklık azalır. Bu durum enlem etkisi ile açıklanır.

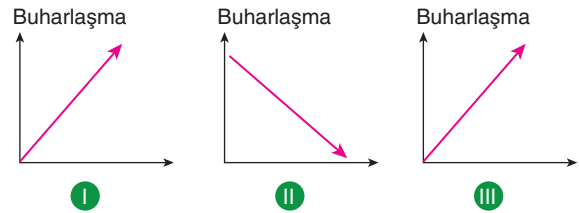


Aşağıdakilerden hangisi enlem etkisi ile sıcaklığın ekvator'dan kutuplara doğru azalmasını engelleyen faktörlerden biri değildir?

- Yükselti
- Denizellik
- Karasallık
- Okyanus akıntıları
- Başlangıç meridyenine uzaklık

H  
I  
Z  
R  
E  
N  
K

8. Aşağıda buharlaşmayı etkileyen 3 farklı grafik verilmiştir.



Buna göre aşağıdakilerden hangisinde buharlaşmayı etkileyen faktörler grafiklere uygun olarak sıralanmıştır?

	I	II	III
A)	Sıcaklık	Yükselti	Rüzgar
B)	Basınç	Sıcaklık	Yükselti
C)	Yükselti	Rüzgar	Sıcaklık
D)	Rüzgar	Sıcaklık	Basınç
E)	Sıcaklık	Rüzgar	Basınç